

YAYASAN PENGAMPU SEKOLAH DAN ASRAMA KRISTEN  
SMA MASEHI 1 PSAK - DISAMAKAN  
Jl. Pasir Mas Raya No. 1, ☎ (024) 3549781 Semarang ✉ 50178

ULANGAN AKHIR SEMESTER I  
Tahun Pelajaran 2009/2010

LEMBAR SOAL

Mata Pelajaran : Teknologi Informasi & Komunikasi  
Kelas / Program : XII / IA, IS & Bahasa  
Hari / Tanggal : Sabtu, 5 Desember 2009  
Waktu : 09.30 – 11.00 WIB

**PETUNJUK UMUM :**

- Gunakan pensil 2 B untuk menghitamkan bulatan pada Lembar Jawaban Komputer (LJK)
- Perhatikan dan ikuti petunjuk pengisian pada Lembar Jawaban Komputer (LJK) yang disediakan
- Periksa dan bacalah soal-soal sebelum anda menjawabnya.
- Laporkan kepada Pengawas Ujian kalau terdapat tulisan yang kurang jelas, rusak atau jumlah soal kurang.
- Jumlah soal sebanyak 50 Butir terdiri dari soal pilihan ganda, semua soal harus dijawab.
- Dahulukan menjawab soal-soal yang Anda anggap mudah
- Penilaian diatur sbb :
  - Nilai minimal : 0
  - Nilai maksimal : 100
- Periksalah pekerjaan Anda sebelum diserahkan kepada Pengawas Test.

**Selamat Mengerjakan.**

**I. Pilihlah Salah satu jawaban yang paling benar !**

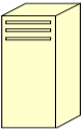
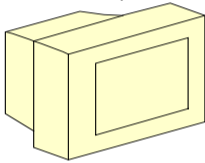
- Menggabungkan dua kolom atau lebih menjadi satu kolom disebut ...
  - Combination
  - Cells
  - Merge cells
  - mail merge
  - coloumn with
- Memasukkan symbol-simbol ke dalam naskah seperti  $\Omega$ ,  $\sqrt{\quad}$ ,  $\Sigma$  dengan perintah...
  - Insert, Symbol
  - Font
  - Align
  - Symbol, Insert
  - Size

3. Perhatikan gambar di bawah ini !



Untuk menyambungkan komputer satu dengan yang lain dengan server atau pusat data maka di butuhkan alat di atas yaitu ...

- CD
  - Hub
  - Flashdisk
  - ADSL
  - Semua salah
4. Perhatikan gambar di bawah ini !
- 
- Gambar di atas adalah ....  
Jaringan Speedy yang kita pakai di Lab. Komputer, menggunakan jaringan ...
- Udara
  - Wireless
  - HP
  - Flashdisk
  - Semua benar
5. Proses menghidupkan computer sering disebut dengan istilah ...
- On
  - Off
  - Gunting
  - booting
  - banting

6. Utility yang digunakan untuk melakukan pengujian dan perbaikan kerusakan suatu disk disebut ...
- Scandisk
  - Defragmenter
  - accessories
  - entertainment
  - System Tool
7. Alat yang berfungsi untuk mengeluarkan atau mengeraskan suara disebut ...
- Monitor
  - Mouse
  - Keyboard
  - speaker
  - printer
8. Hak Eksklusif bagi pencipta atau penerima hak untuk mengumumkan, memperbanyak ciptaannya menurut peraturan yang berlaku disebut ...
- Hak Cipta
  - Hak Asasi
  - Hak Hidup
  - Hak Manusia
  - Hak Individu
9. Perbuatan-perbuatan di bawah ini adalah sesuai dengan UU Hak Cipta kecuali ...
- Tidak memperbanyak suatu software tanpa license
  - Tidak memodifikasi suatu program tanpa seijin yang punya
  - Menggunakan software computer untuk kejahatan
  - Menggunakan CD lagu yang asli
  - Tidak merekam suatu acara yang bagus di suatu stasiun Televisi
10. Gambar ini merupakan salah satu Hardware di Lab. Komputer Anda yaitu ...
- 
- CPU
  - Monitor
  - Keyboard
  - Mouse
  - Printer
11. Gambar ini merupakan salah satu Hardware di Lab. Komputer Anda yaitu ...
- 
- CPU
  - Monitor
  - Keyboard
  - Mouse
  - Printer
12. Hardware Komputer yang berguna untuk menampilkan informasi di kertas adalah ...
- CPU
  - Monitor
  - Keyboard
  - Mouse
  - Printer
13. Berikut ini adalah alat untuk akses internet secara cepat yang lebih dari 150 kbps yang di keluarkan oleh Telkom Indonesia yang iklannya sering muncul di Televisi yaitu ...
- Flexy
  - Simpati
  - Speedy
  - XL
  - Satelindo
14. Menurut Anda bentuk Virus Komputer adalah berupa ...
- Software
  - Hardware
  - Brainware
  - Data
  - Folder
15. Di bidang Ilmu Komputer pengguna Komputer disebut ...
- Software
  - Hardware
  - Brainware
  - Data
  - Folder
16. Di Komputer orang perlu paham manajemen file, biar data mudah di cari maka kita harus membuat suatu alamat di computer yang disebut ...
- Software
  - Hardware
  - Brainware
  - Data
  - Folder
17. Di Indonesia Hak Cipta di atur dalam undang-undang nomor ...
- No. 19 Tahun 2002
  - No. 18 Tahun 2002
  - No. 19 Tahun 2001
  - No. 19 Tahun 2004
  - No. 15 Tahun 2002
18. Hak Eksklusif bagi pencipta atau penerima hak untuk mengumumkan, memperbanyak ciptaannya menurut peraturan yang berlaku disebut ...
- Hak Cipta
  - Hak Asasi
  - Hak Hidup
  - Hak Manusia
  - Hak Individu
19. Di bawah ini adalah contoh suatu alamat web yang benar ...
- www.google.com
  - www.yahoo.com
  - www.mail.com
  - www.plaza.com
  - www.edukasi.net
20. Seorang petani mempunyai lahan seluas 1 Hektar (10.000 meter <sup>2</sup>) 1500 m<sup>2</sup> digunakan untuk lahan persawahan, 4500 m<sup>2</sup> digunakan untuk ladang pertanian dan sisanya untuk rumah dan halaman. Jika seluas 2250 m<sup>2</sup> di gunakan untuk membangun rumah maka sisa untuk halaman adalah ... m<sup>2</sup>
- 1000
  - 1225
  - 1550
  - 1750
  - 2000

21. Di bawah ini merupakan alamat mail suatu web di internet ...  
 a. mail.google.com      c. plaza.mail.com  
 b. mailyahoo.com      d. mailplaza.com      e. mailedukasi.net
22. Jika kita ingin keluar dari email kita, maka perintah yang harus kita klik adalah ...  
 a. Sign Up      c. Sign In  
 b. Sign Out      d. Sign On      e. Sign Off
23. Jika kita sudah membuat alamat email di suatu web maka perintah yang harus kita klik setelah memasukkan alamat email dan password adalah ...  
 a. Sign Up      c. Sign In  
 b. Sign Out      d. Sign On      e. Sign Off
24. Salah satu syarat bagi seseorang untuk bekerja adalah ...  
 a. Cukup umur      c. sehat  
 a. Dewasa      d. badan besar      e. badan kuat
25. Agar ruangan computer selalu terjaga dari berbagai kotoran, maka hendaklah seperti yang tertulis di bawah ini kecuali...  
 a. Di beri AC      c. tidak merokok dalam ruangan  
 b. Selalu dibersihkan      d. ruangan terbuka      e. ruangan tertutup
26. Posisi duduk yang benar dalam menggunakan komputer adalah ...  
 a. Punggung membungkuk      d. dada membusung  
 b. Punggung tegak lurus      e. kepala ke samping kanan  
 c. Kepala ke samping kiri
27. Salah satu cara untuk mengurangi radiasi cahaya monitor terhadap mata bagi pengguna komputer adalah dengan cara menggunakan ...  
 a. Monitor black and white      d. meredupkan cahaya monitor  
 b. Screen filter      e. monitor jenis SVGA  
 c. Monitor generasi lama
28. Media input (masukan) yang menjadi sarana pendukung utama untuk dapat memasukkan huruf, angka, maupun karakter khusus lainnya ke dalam computer adalah ...  
 a. CPU      d. printer  
 b. Monitor      e. scanner  
 c. Keyboard
29. Alat yang berfungsi untuk mengeluarkan atau mengeraskan suara disebut ...  
 a. Monitor      d. speaker  
 a. Mouse      e. printer  
 b. Keyboard
30. Alat untuk mengatur perpindahan kursor secara cepat dan memberikan perintah secara praktis disebut ...  
 a. Keyboard      d. mouse  
 b. Scanner      e. monitor  
 c. Digitizer
31. Berikut yang sering disebut peralatan input-output adalah...  
 a. Hardisk      d. keyboard  
 b. Printer      e. speaker  
 c. Modem
32. Kegunaan program Power Point adalah ...  
 a. Presentasi      c. Menggambar  
 b. Menghitung      d. Mengetik      e. Membantu belajar
33. Microsoft Power Point termasuk paket program ...  
 a. Ms. Office      c. Sistem Operasi  
 b. Windows      d. Game      e. Excel
34. Jika kita sudah membuat alamat email di suatu web maka perintah yang harus kita klik setelah memasukkan alamat email dan password adalah ...  
 a. Sign Up      c. Sign In  
 b. Sign Out      d. Sign On      e. Sign Off
35. Jika kita ingin keluar dari email kita, maka perintah yang harus kita klik adalah ...  
 a. Sign Up      c. Sign In  
 b. Sign Out      d. Sign On      e. Sign Off

36. Di bawah ini merupakan alamat mail suatu web di internet ...  
 a. mail.google.com      c. plaza.mail.com  
 b. mailyahoo.com      d. mailplaza.com      e. mailedukasi.net
37. Di bawah ini adalah contoh suatu alamat web yang benar ...  
 a. www.google.com      c. www.mail.com  
 b. www.yahoo.com      d. wwwlplaza.com      e. wwwedukasi.net
38. Jika kita belum punya email di suatu alamat web, maka setelah masuk mail suatu web perintah yang harus kita klik adalah ...  
 a. Sign Up      c. Sign In  
 b. Sign Out      d. Sign On      e. Sign Off

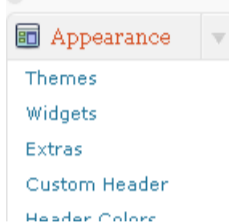
39. Perhatikan gambar di bawah ini !



Maka untuk mengganti profil atau password dari blog, maka yang Anda pilih adalah icon...

- a. My Account      c. My Dashboard  
 b. New Post      d. Blog Info      e. Semua salah

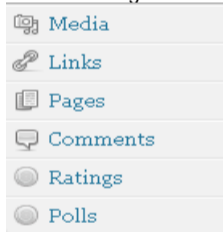
40. Perhatikan gambar berikut !



Untuk membuat atau menuliskan perintah text/html maka icon yang harus kita pilih adalah ...

- a. Themes      c. Extras  
 b. Widgets      d. Custom Header      e. Semua benar
41. Tempat di blog yang berguna untuk posting, edit, menambah widgets, mengganti profil adalah ...  
 a. blog      c. chat  
 b. dashboard      d. profil      e. script
42. Untuk mengarahkan postingan di blog menurut pencarian orang, maka kita perlu menambahkan ...  
 a. Label      c. Tag  
 b. Tos      d. a dan c benar      e. semua benar

43. Perhatikan gambar berikut !



Untuk membuat halaman tambahan di blog maka icon yang kita pilih ...

- a. links      c. Media  
 b. Pages      d. ratings      e. Comments
44. Perhatikan gambar soal 43 di atas maka icon yang digunakan untuk membuat tautan suatu alamat dengan blog kita adalah ...  
 a. links      c. Media  
 b. Pages      d. ratings      e. Comments
45. Di bawah ini adalah alamat blog SMA Masehi 1 PSAK Semarang yang digunakan untuk mengumpulkan data alamat blog siswa.  
 a. mahezone.blog.com      c. google.blog.com  
 b. smamasehi1.wordpress.com      d. smamasehi1.blogspot.com      e. smamasehi1.blog.com

46. Perhatikan listing program berikut ini !

```
<a href=http://smamasehi1.wordpress.com>Mahezone Blog</a>
<img src=http://mahezone.googlepages.com/gbr1.bmp>
<tr><td>.....</td><td>.....</td></tr>
```

Perhatikan listing program 1 di atas, maka yang tampil di layer adalah .....

- a. gambar      c. colom  
 b. Mahezone Blog      d. baris      e. table

47. Perhatikan listing program berikut ini !  
 <a href=<http://smamasehi1.wordpress.com>>Mahezone Blog</a>  
 <img src=<http://mahezone.googlepages.com/gbr1.bmp>>  
 <tr><td>.....</td><td>.....</td></tr>  
 Perhatikan listing program 2 di atas, maka yang tampil di layar adalah .....

- a. gambar
- b. Mahezone Blog
- c. colom
- d. baris
- e. table

48. Perhatikan listing program berikut ini !  
 <a href=<http://smamasehi1.wordpress.com>>Mahezone Blog</a>  
 <img src=<http://mahezone.googlepages.com/gbr1.bmp>>  
 <tr><td>.....</td><td>.....</td></tr>  
 Perhatikan listing program 3 di atas, maka yang tampil di layar adalah .....

- a. gambar
- b. Mahezone Blog
- c. 2 colom
- d. 2 baris
- e. table

49. Berikut ini adalah contoh URL yang benar kecuali.....  
 a. <http://smamasehi1smg.webs.com>      d. <http://www.google.com>  
 b. <http://smamasehi1.wordpress.com>      e. <http://mail.yahoo>  
 c. <http://wwwsmamasehi.blog.com>

50. Perhatikan gambar berikut ini !



Berikut ini adalah icon yang ada di dalam Email, yang berguna untuk mengirim surat adalah...

- a. membuat pesan
- b. pesan terkirim
- c. kotak masuk
- d. spam
- e. konsep

